





## PPKn TEMA 5 SUBTEMA 1 & 2

Pilihlah jawaban yang paling tepat!

- Selalu berdoa sebelum tidur merupakan pengamalan sila ke ....
  - sila ke 1
  - sila ke 2
  - sila ke 3
- Salah satu contoh pengamalan sila ke dua di rumah yaitu ...
  - membantu ibu menyiram tanaman
  - berdoa sebelum tidur
  - membuat adik menangis
- Bermain bersama dengan teman-teman yang berbeda suku di lingkungan rumah merupakan pengamalan sila ke ...
  - sila ke 1
  - sila ke 2
  - sila ke 3
- Gambar yang menunjukkan pengamalan sila ke dua yaitu ....
  - 
  - 
  - 
- Simbol sila pertama Pancasila yaitu ...
  - pohon beringin
  - rantai emas
  - bintang
- Apabila ada teman di sekolah yang berbeda agama dengan kita, sikap kita sebaiknya...
  - menjauhi
  - menghormati
  - mengejeknya
- Contoh sikap yang sesuai dengan pengamalan sila pertama Pancasila di sekolah yaitu...
  - menolong teman yang terjatuh
  - berdoa sebelum belajar
  - bangga menggunakan produk dalam negeri
- Mengenakan batik sesuai dengan sila ke...
  - sila ke 1
  - sila ke 2
  - sila ke 3
-  Gambar di samping adalah tempat ibadah umat .....
  - Islam
  - Hindu
- Tidak membedakan teman merupakan pengamalan sila ke ...
  - sila ke 1
  - sila ke 2
  - sila ke 3



## BAHASA INDONESIA TEMA 5 SUB TEMA 1 DAN 2

Silanglah huruf a,b, atau c yang jawabannya paling tepat!

Bacalah puisi di bawah ini !

Bunga mawar  
Mekar di taman  
Merah warnanya  
Harum baunya  
    Bunga mawarku  
    Mekarlah selalu  
    Agar indah taman rumahku  
    Agar senang rasa hatik





1. Puisi di atas terdiri dari ..... bait dan ..... baris.
  - a. 2 bait dan 4 baris
  - b. 4 bait dan 8 baris
  - c. 2 bait dan 8 baris
2. Judul yang tepat untuk puisi di atas adalah ...
  - a. Bunga melati
  - b. Bunga mawar
  - c. Bunga matahari
3. Hujan turun dengan **lebat**. Makna kata lebat sama dengan ....
  - a.deras    b. paruh    c. berhenti
4. Mimik senang atau sedih dalam membaca Puisi disebut.....
  - a. Intonasi    b. lafal    c. ekspresi
5. Contoh ungkapan permintaan maaf adalah....
  - a. Maafkan aku tidak sengaja mematahkan pensilmu.
  - b. Terima kasih sudah meminjamkan pensilmu.
  - c. Beni meminta maaf kepada Edo.

Bacalah percakapan berikut!

Beni : "Ayah, Beni meminta maaf."

Ayah : "Meminta maaf tentang apa?"

Beni : "Karena Beni kurang hati-hati sehingga hampir memecahkan guci."

6. Siapa yang meminta maaf pada percakapan di atas?
  - a. Ayah    b. Beni    c. ayah Beni.
7.  di  
Ungkapan minta tolong yang sesuai gambar adalah .....
  - a. Beni tolong sapu kelasnya ini!
  - b. Beni tolong pasang gambar kaligrafi ini di dinding!
  - c. Beni tolong bawakan ember itu!
8. Jika minta pertolongan kepada orang lain gunakan bahasa yang .....
  - a. Sopan    b. tegas    c. indah
9. Kakak sudah di tolong Beni, kakak sebaiknya mengucapkan .....
  - a. Hore    b. maaf    c. terima kasih
10. Siti tolong bersihkan halaman ini! Gambar yang sesuai dengan ungkapan minta tolong di atas adalah.....
  - a. 
  - b. 
  - c. 

## MATEMATIKA TEMA 5 SUBTEMA 1 DAN 2


**Berilah tanda silang pada jawaban yang benar!**

1. Satuan ukuran pada penggaris adalah ...


- a. Meter                      c. kilogram  
b. Sentimeter

2. Manakah benda di bawah ini yang bisa diukur dengan penggaris?

a.



b.



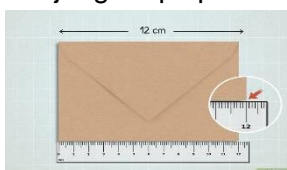
c.



3. Mengukur benda menggunakan penggaris di mulai dari angka ...

- a. 0                      b. 1                      c. 2

4. Panjang amplop adalah ....



- a. 12 cm                b. 11 cm                c. 10 cm

5. Untuk mengukur benda di bawah digunakan ....



- a. penggaris                      c. jangka sorong  
b. meteran

6. Panjang sebuah buku diukur dengan penggaris menunjukkan 20. Panjang buku tersebut berarti ....

- a. 2 meter                b. 20 cm                c. 2 cm

7. 100 cm = .... m

- a. 1                      b. 10                      c. 100

8. 7 m = .... cm

- a. 7                      b. 700                      c. 70

9. Sebuah pipa diukur panjang 8 meter.

Panjang pipa tersebut sama dengan ... cm

- a. 80                      b. 800                      c. 8

10. Ayah mengukur bambu. Bambu tersebut panjangnya 500 cm. Panjang bambu tersebut sama dengan ....

- a. 500 m                b. 50 m                c. 5 m



## MATEMATIKA TEMA 6 SUBTEMA 1 DAN 2

Berilah tanda silang pada jawaban yang benar!

- Berat sebuah benda dapat diukur menggunakan .....  
a. penggaris                      b. timbangan                      c. jam
- Satuan untuk mengukur berat yaitu ....  
a. m                                  b. cm                                  c. kg
- Jika berat 1 kg gula pasir adalah 10 ons, maka berat 5 kg gula pasir adalah .....ons  
a. 50                                  b. 500                                  c. 5000

4. Alat timbangan yang cocok untuk menimbang 3 kg jagung adalah .....

a.



b.



c.



5. Berat telur jika dinyatakan ke dalam kilogram adalah .....



a. 1000 kg

c. 1 kg

b. 100 kg

6.  $60 \text{ kg} + 60 \text{ kg} = \dots\dots \text{ kg}$

a. 12

b. 210

c. 120

7. Ibu membeli 1 kg pepaya, 200 gram biji jagung, dan 1 ons gula pasir. Manakah yang paling berat?

a. pepaya

b. biji jagung

c. Gula pasir

8. Anak timbangan yang menunjukkan berat semangka yaitu .....



a.



b.



c.



9. Manakah yang kira-kira beratnya 2 kg?

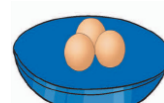
a.



b.



c.



10. Berat durian 3.000 gram. Berat semangka 30 ons.dan berat melon 300 ons. Berat yang nilainya sama dengan 3 kg adalah...

a. durian dan melon

b. durian dan semangka

c. semangka dan melon

## **SBdP TEMA 5 SUB TEMA 1 DAN 2**

Berilah tanda silang pada jawaban yang benar!

### **Tema 5 Subtema 1**

1. Lagu Pelangi ciptaan .....  
a. Ibu Sud                      b. AT. Mahmud                      c. Pak Kasur
2. Lagu Pelangi-pelangi dinyanyikan dengan berbirama .....  
a.  $\frac{2}{4}$                       b.  $\frac{3}{4}$                       c.  $\frac{4}{4}$
3. Tanda > artinya .....  
a. nada kuat                      b. nada lemah                      c. nada tinggi
4. Panjang pendek bunyi disebut .....  
a. pola irama                      b. pola suara                      c. pola musik
5. Pola irama dapat dihitung berdasarkan ....  
a. judul lagu                      b. ketukan                      c. syair lagu

### **Tema 5 Subtema 2**


1. Contoh karya seni 2 dimensi adalah .....  
a. patung                      b. lukisan                      c. vas bunga
2. Membuat vas bunga dari tanah liat termasuk karya seni ..... Dimensi  
a. 2                      b. 3                      c. 4
3. Bahan alami yang dapat digunakan untuk menghias vas bunga adalah .....  
a. biji-bijian                      b. manik-manik                      c. kertas warna
4. Contoh bahan buatan adalah .....  
a. biji kacang                      b. tanah liat                      c. plastisin
5. Membuat anyaman ketupat menggunakan janur. Janur diperoleh dari pohon .....  
a. nanas                      b. kelapa                      c. pisang

## PJOK TEMA 6 SUB TEMA 1 DAN 2

Pilihlah jawaban yang paling tepat!

- Gerakan berpindah tempat dari satu tempat ke tempat lain dengan cara melangkahkan kaki satu persatu dengan kecepatan normal disebut ...  
a. Melompat                      b. berjalan                      c. berlari
- Posisi awal ketika akan melakukan gerakan berjalan adalah kaki .....posisi badan..... dan pandangan.....  
a..rapat, tegap, menunduk                      c. rapat, tegap, ke depan  
b. rapat, menunduk, tegap


- Di bawah ini yang menunjukkan gerakan berjalan langkah rapat adalah.....



- Ketika melangkahkan kaki kiri ke depan ketika berjalan yang kita ayun ke depan adalah tangan ....  
a. Tangan kanan                      b. tangan kiri                      c. kaki kiri
- Gerakan berjalan berirama tidak dapat diiringi dengan.....  
a. bunyi peluit                      b. lompatan                      c. irama musik

- Di bawah ini gambar yang menunjukkan variasi gerak jalan di tempat dengan lutut terangkat adalah.....



- Di samping adalah gambar lintasan untuk lari .....  
 a. di tempat                      b. zig-zag                      c. cepat

- Dalam berlari cepat yang menjadi pemenang adalah yang paling dulu mencapai garis.....  
a. Finish                      b. start                      c. zig-zag  
b. start


- Gambar yang menunjukkan gerakan lari zig-zag adalah.....



- Gerakan lari di tempat dilakukan dengan hitungan sampai...  
a. 4 kali                      b. 6 kali                      c. 8 kali

## BAHASA JAWA PIWULANG 5

Pilihèn wangsulan a, b, c sing koanggep bener!

1. “Kene kene gugur gunung tandang gawe. Tembung gugur gunung tegese .....
  - a. gotong royong
  - b. jenenge gunung
  - c. munggah gunung
2. Ayo kanca ayo kanca ngayahi karyaning .....
  - a. negara
  - b. praja
  - c. kanca
3. Woh-wohan kang ana tembang Dhondhong Apa Salak yaiku .....
  - a. dhondhong, nanas, gedhang
  - b. dhuku, pelem, kates
  - c. dhondhong, salak, dhuku
4. Mlaku thimik-thimik tegese ....
  - a. mlakune cepet banget
  - b. mlakune alon-alon
  - c. mlayune banter
5. Gendhong iku tegese nggawa barang ing ....
  - a. pundhak
  - b. sirah
  - c. geger
6. Tembung camboran tunggal, contone .....
  - a. gugur gunung
  - b. gunung merbabu
  - c. gunung gunung
7. Jaranan jaranan jarane jaran teji.  
Sing numpak ndara bei. Sing ngiring .....
  - a. ndara bei
  - b. para santri
  - c. para mantri
8.  Bocah kelas loro pada dolanan  
Kanthi nembang .....
  - a. jaranan
  - b. jamuran
  - c. bapak pocung
9. Sira badhe jamur apa? Sing ditakoni banjur ....
  - a. njawab jamur parut
  - b. dikukuri sikile
  - c. mlayu
10. Bapak pocung yen mlaku lembeyan grana. Batangane yaiku .....
  - a. semut
  - b. gajah
  - c. wedhus