

LATIHAN PPKn

NO. ABSEN _____

KELAS 1 D

SUMATIF 1 (PPKn - Pancasila)

1. Dasar negara Indonesia adalah...
 - a. Pancasila
 - b. Burung garuda
 - c. Bhinneka Tunggal Ika
2. Burung garuda adalah negara Indonesia
 - a. Dasar
 - b. lambang
 - c. semboyan
3. Warna bendera Indonesia adalah merah putih. Merah berarti ...
 - a. Berani
 - b. suci
 - c. kejayaan
4. Jumlah bulu pada sayap burung garuda Pancasila ada 17, Jumlah bulu ekor pada Garuda Pancasila berjumlah 8 dan jumlah bulu leher burung Garuda Pancasila ada 45, menunjukkan hari Kemerdekaan Indonesia yaitu ...
 - a. 14 Agustus 1945
 - b. 16 Agustus 1945
 - c. 17 Agustus 1945
5. Pada lambang negara Indonesia, burung Garuda mencengkeram pita yang bertuliskan Semboyan negara Indonesia yang berbunyi....
 - a. Bhineka Tunggal Ika
 - b. Bercerai menjadi runtuh
 - c. Bertengkar menjadi rukun
6. Sila pertama Pancasila berbunyi...
 - a. Kemanusiaan yang adil dan beradab
 - b. Keadilan sosial bagi seluruh rakyat Indonesia
 - c. Ketuhanan Yang Maha Esa
7. Keadilan sosial bagi seluruh rakyat Indonesia adalah bunyi sila yang dilambangkan dengan...
 - a. 
 - b. 
 - c. 
8. Kata "Esa" pada sila pertama Pancasila artinya ...
 - a. Banyak
 - b. satu
 - c. tidak ada
9. Pohon beringin adalah simbol sila Pancasila ke...
 - a. Satu
 - b. Dua
 - c. Tiga
10. Bunyi Pancasila yang dilambangkan dengan gambar di bawah adalah ...
 - a. Persatuan Indonesia
 - b. Keadilan sosial bagi seluruh rakyat Indonesia
 - c. Kerakyatan yang dipimpin oleh hikmah kebijaksanaan dalam permusyawaratan/ perwakilan
11. Bunyi sila kedua Pancasila adalah Kemanusiaan yang dan
 - a. Adil dan aman
 - b. sopan dan beradab
 - c. adil dan beradab
12. Warna bintang pada sila pertama Pancasila adalah
 - a. Keemasan
 - b. biru
 - c. hijau
13. Simbol pohon beringin berwarna ...
 - a. hijau
 - b. emas
 - c. merah

14. Sila kedua Pancasila dilambangkan dengan gambar rantai emas, yang berbentuk lingkaran dan

- a. persegi b. segitiga c. segilima

15. Simbol sila kelima Pancasila mempunyai latar yang berwarna

- a. hitam b. merah c. putih

16. Simbol Pancasila sila kelima adalah kepala banteng yang bermakna

- a. banteng suka berkelompok/ hidup bersosial
b. banteng hewan yang buas
c. banteng hewan yang menyeramkan

17. Sila keempat Pancasila mengajarkan kita tentang

- a. kemanusiaan b. musyawarah c. persatuan

18. Contoh sikap yang mencerminkan sila keempat Pancasila adalah ...

- a.  b.  c. 

19.  Siti telah mencerminkan pengamalan Pancasila sila ke ...

- a. Satu
b. Dua
c. tiga

20. Ketika ada temanmu yang beragama lain sedang beribadah, maka sikap kamu adalah

- a. menggodanya b. menertawakannya c. menghormatinya

21. Adil mempunyai arti tidak berat sebelah. Selain itu juga memilih hal yang

- a. Salah b. benar c. salah dan benar

22. Menolong teman termasuk pengamalan Pancasila sila kedua. Menolong teman harus dengan hati yang ...

- a. terpaksa b. pamrih c. ikhlas

23. Pengamalan sila ketiga adalah saat berteman kita tidak boleh saling

- a. Bergantian b. bertengkar c. rukun

24. Ketika teman sedang berbicara, sebaiknya aku tidak ...

- a. Memotong pembicaraannya
b. Menghormatinya
c. memperhatikannya

25. Ketika pendapatmu berbeda dengan pendapat temanmu, apa yang kamu lakukan?


- a. tetap menghormati pendapat teman.
b. Memusuhi teman
c. Mengejek teman

SUMATIF 2 (PPKn - Mematuhi Aturan di rumah, sekolah dan masyarakat)

1. Saat bermain dengan teman harus

- a. selalu mengalah b. mau menang sendiri c. rukun

2. Di bawah ini adalah contoh mematuhi aturan saat bermain yaitu ...



3. Sikap yang boleh kita lakukan saat bermain dengan teman adalah ...

- a. harus mau bergantian b. harus berebut mainan c. harus egois

4. Dayu dan Bela sedang bermain boneka. Tanpa sengaja, Bela menumpahkan minum sehingga boneka Dayu basah. Apa yang harus Bela lakukan?

- a. Langsung pulang b. Minta maaf pada Dayu c. menangis

5. Sebagai anak, kita harus orang tua.

- a. menghormati b. mencela c. mengabaikan

6. Apabila orang tua memberikan nasihat, maka kita harus

- a. mengabaikan b. mendengarkan c. mengacuhkan

7. Setelah digunakan, handuk sebaiknya

- a. dijemur b. dilipat c. dijual

8. Aturan di rumah pada pagi hari adalah ...

- a. Setelah bangun tidur merapikan kasur
b. Ganti baju setelah pulang sekolah
c. Menggosok gigi sebelum tidur malam

9. Saat bermain bersama adik harus

- a. bertengkar b. rukun c. berebut

10. Aturan sebelum makan kita harus mencuci

- a. muka b. baju c. tangan

11. Sebagai anak yang berbakti, sebelum pergi sekolah kita pada ayah dan ibu

- a. Minta uang b. pamitan c. marah

12. Agar subur tanaman di sekolah harus

- a. ditebang b. dirawat c. diinjak

13. Kita dapat meminjam buku di

- a. kantin sekolah b. perpustakaan c. ruang UKS

14. Bertengkar dengan teman termasuk perbuatan yang aturan sekolah.

- a. mematuhi b. melanggar c. menjalankan

15. Meletakkan sepatu sebaiknya di

- a. teras b. rak sepatu c. sembarang tempat

8. Apa yang dimaksud dengan kewajiban?

- a. Kewajiban adalah segala sesuatu yang tidak harus kita lakukan atau kerjakan
- b. kewajiban adalah segala sesuatu yang harus kita lakukan atau kerjakan.
- c. Kewajiban adalah sesuatu yang kita dapatkan

9. Kewajiban seorang ayah dalam keluarga adalah

- a. Mencari nafkah
- b. mengurus rumah tangga
- c. belajar

10. Gambar di samping menunjukkan kasih sayang seorang ...



- a. Pembantu
- b. Bibi
- c. ibu

11. Apa kewajibanmu sebelum berangkat sekolah?

- a. Meminta uang pada ibu
- b. mendapat sarapan
- c. berpamitan kepada orang tua.

12. Apa yang seharusnya kamu lakukan setelah bangun tidur?

- a. Makan
- b. belajar
- c. merapikan tempat tidur

13. Menghormati guru adalah contoh kewajiban di ...

- a. Rumah
- b. sekolah
- c. jalan raya

14. Dodo adalah siswa kelas 1. Dodo tidak mau mengerjakan tugas. Di sekolah, Dodo hanya bermain-main dan mengganggu temannya. Dodo tidak melaksanakan ... sebagai siswa

- a. Hal
- b. kewajiban
- c. aturan

15. Kewajiban anak di rumah adalah ...

- a. Bekerja
- b. bermain
- c. menghormati orang tua

16. Apa yang akan kamu ucapkan saat temanmu membantumu membawakan bukumu?

- a. terima kasih telah membantuku
- b. Bukunya taruh di meja ya
- c. Kamu baik sekali

17. Bersalaman dengan guru termasuk sikap yang menunjukkan

- a. kesopanan
- b. keangkuhan
- c. kemenangan

18. Kegiatan yang biasanya dilakukan di lapangan sekolah pada hari Senin yaitu

- a. pramuka
- b. upacara bendera
- c. belajar

19. Menjaga kebersihan sekolah adalah kewajiban ...

- a. Petugas kebersihan
- b. Guru dan kepala sekolah
- c. seluruh warga sekolah

20. Hak dan kewajiban harus dilaksanakan dengan ...

- a. Sama
- b. seimbang
- c. paksaan

21. Apa kewajibanmu di rumah? _____

22. Apa akibatnya jika kamu malas belajar? _____

23. Sebutkan 3 hakmu di sekolah! _____

SUMATIF 3 (PPKn - Keberagaman Individu)

1. Ketika teman memperkenalkan diri maka kita harus
 - a. bicara sendiri
 - b. mengabaikan
 - c. memperhatikan
2. Radit adalah siswa baru di kelas 1. Radit memperkenalkan diri di depan teman-teman. Radit menyebutkan ...
 - a. Nama, usia dan alamatnya
 - b. Harga baju dan sepatunya
 - c. hobi dan harga tasnya
3. Mila ingin menjadi seorang Bidan. Hani ingin menjadi seorang guru. Mila dan Hani mempunyai perbedaan
 - a. hobi
 - b. ciri fisik
 - c. cita cita
4. Di bawah ini yang bukan termasuk ciri fisik, yaitu
 - a. berambut ikal
 - b. berkulit putih
 - c. pendiam
5. Rani berbeda fisik dengan adiknya. Rani bertubuh kurus, sedangkan adiknya bertubuh ...
 - a. Ramah
 - b. gemuk
 - c. ikal
6. Beni berasal dari Betawi, Dayu berasal dari Bali dan Joko berasal dari Jawa. Mereka semua berbeda ...
 - a. Agama
 - b. suku budaya
 - c. ciri fisik
7. Allah menciptakan manusia ada yang perempuan dan laki-laki. Salah satu ciri laki-laki adalah ...
 - a. Memakai rok
 - b. memakai celana
 - c. Memakai anting-anting
8. Lani beragama konghuchu, Beni beragama khatolik dan Siti beragama islam. Sikap yang harus mereka terapkan agar tercipta kerukunan adalah ...
 - a. Toleransi
 - b. saling mengejek
 - c. saling bermusuhan
9. Ani senang bermain masak-masakan. Budi senang bermain bola. Mereka memiliki kegemaran yang berbeda. Mereka sebaiknya saling ...
 - a. meminjamkan mainan
 - b. mengganti kegemaran
 - c. menghargai kegemaran
10. Bela gemar membaca. Dayu gemar bermain boneka, sikap Dayu terhadap Bela yaitu ...
 - a. mengganggu Bela yang sedang membaca
 - b. menyembunyikan buku bacaan Bela
 - c. menjaga ketenangan saat Bela sedang membaca
11. Vania tidak mau meminjamkan bonekanya kepada Vina. Ibu sedih melihat mereka bertengkar. Vania sebaiknya ...
 - a. Meminta ibu membelikan Vina mainan baru
 - b. Menyembunyikan bonekanya
 - c. Meminjamkan bonekanya kepada Vina
12. Ayah dan ibu berasal dari suku bangsa yang berbeda. Apakah yang harus ayah dan ibu lakukan agar tetap rukun?
 - a. saling menunggu
 - b. saling melihat
 - c. saling menyayangi

SUMATIF 1
SD AL IRSYAD 02 CILACAP
TAHUN PELAJARAN 2022/2023

Mata Pelajaran : Bahasa Indonesia	Nama :
Materi : Bab 1. Bunyi Apa!	Kelas/Semester : I / 1 (Satu/Satu)
Hari/Tanggal :	Nilai : <input type="text"/>

A. Pilihlah jawaban yang benar dengan memberi tanda silang (X) pada huruf a, b, atau c.

1. Perhatikan lafal berikut!

B-O-LA

Lafal di atas dibaca

- a. Bala
- b. Bila
- c. Bola

2. Perhatikan kartu nama berikut!



Siapa Nama yang tertulis di kartu?

- a. Bani
- b. Boni
- c. Beni

3. Perhatikan gambar berikut!



Binatang pada gambar berbunyi?

- a. Meong! Meong!
- b. Petok! Petok!
- c. Cit! Cit!

4. Perhatikan suku kata berikut!

BU

KU

BA

RU

Suku kata diatas di baca ...

- a. BUKU BIRU
- b. BUKU BARU
- c. BUKU BUBU

5. Aku makan dengan

- a. Mulutku
- b. Telingaku
- c. Hidungku


6. Perkatikan gambar berikut!



Gambar di atas akan muncul pada saat ...

- a. Malam
- b. Pagi
- c. Siang

7. Posisi duduk yang benar saat menulis di tunjukan oleh gambar ...



8. Perhatikan gambar berikut!



Orang pada gambar sedang sibuk...

- a. Bermain
- b. Berjualan
- c. Makan

9. Perhatikan suku kata berikut!
RA - RA SU - KA SU - SU
Suku kata di atas jika di baca ...

- a. RARA SUKA SUSU
- b. RARA SUSU SUKA
- c. RARA SUKA SASA

Bacalah teks berikut ini!

Aku melihat dengan mataku bola berwarna biru.

Aku mendengar dengan telingaku suara ayam petok petok.

Aku mencium dengan hidungku harumnya masakan ibu.

Aku merasa dengan lidahku enak masakan ibu.

Aku meraba dengan tanganku halusny bulu kucingku.

10. Kita melihat dengan menggunakan.....

- a. mata
- b. telinga
- c. hidung

11. Bunyi suara ayam.....

- a. cicit cicit
- b. petok petok
- c. mengaum

12. Kita merasakan halus dan kasar dengan tangan.

- a. mencium
- b. meraba
- c. merasa

13. Bola jika dipantulkan ke tanah berbunyi.....

- a. Duk duk
- b. Kek Kek
- c. Cit cit

14. suara ayam berkokok di pagi hari.

- a. meong meong
- b. kukuruyuk
- c. gukguk

15. Mengapa suara terdengar jelas saat malam?

- a. karena suasana ramai
- b. karena suasana sepi
- c. karena malam hari

16. Susunlah kata berikut!

b - t - u - a

Kata tersebut adalah....

- a. batu
- b. bata
- c. butu

17. suara petasan saat dibunyikan akan terdengar

- a. pelan
- b. keras
- c. lambat

18. Boni membisikkan sesuatu. Suaranya terdengar

- a. tinggi
- b. pelan
- c. keras

19. Pasar terlihat..... para penjual dan pembeli.

- a. sepi
- b. sibuk
- c. padat

20. Bola jika dipantulkan ke tanah berbunyi.....

- a. Duk duk
- b. Kek Kek
- c. Cit cit


B. Jawablah soal dibawah ini dengan tepat!

1. Aku merasakan makanan dengan
2. Perhatikan gambar berikut!



Binatang pada gambar berbunyi ...

3. Perhatikan gambar berikut!



Apa nama binatang pada gambar ...

4. Perhatikan gambar berikut!



Gambar diatas keluarga hadi sedang ...

5. Perhatikan gambar berikut!



Lani sedang

SUMATIF 2
SD AL IRSYAD 02 CILACAP
TAHUN PELAJARAN 2022/2023

Mata Pelajaran : Bahasa Indonesia	Nama :
Materi : Bab 2. Ayo Bermain!	Kelas/Semester : I / 1 (Satu/Satu)
Hari/Tanggal :	Nilai : <input type="text"/>

A. Pilihlah jawaban yang benar dengan memberi tanda silang (X) pada huruf a, b, atau c.

1. Agar dapat bermain dengan nyaman, sebaiknya bermain dilakukan dengan
 - a. ceroboh
 - b. hati- hati
 - c. seenaknya
2. Di bawah ini yang merupakan tempat yang aman untuk bermain adalah
 - a. Jalan
 - b. Taman bermain
 - c. Sungai
3. Pada saat akan menggunakan mainan yang masih dipakai teman kita, sebaiknya kita
 - a. merebutnya
 - b. langsung menggunakannya
 - c. menunggu sampai selesai
4. Cici dan Gita sedang bermain jungkat jungkit. Saat Gita akan turun dari jungkat jungkit, kalimat yang sebaiknya diucapkan kepada Cici adalah
 - a. Bolehkah aku turun?
 - b. Turun!
 - c. Turunkan sekarang!
5. Kalimat tanya diakhiri dengan tanda
 - a. (!)
 - b. (?)
 - c. (.)
6. Di bawah ini yang termasuk kalimat tanya adalah
 - a. Boni,ambilkan buku itu!
 - b. Dimana kamu tinggal, Boni?
 - c. Ibu pulang dari pasar membawa sayuran.
7. Kata tanya "mengapa" untuk menanyakan
 - a. nama
 - b. benda
 - c. sebab atau alas an
8. yang sedang kamu lakukan?
 - a. Siapa
 - b. Apa
 - c. Kapan
9. Penggunaan kalimat tanya yang tepat adalah
 - a. Siapa kamu yang membeli buah apel?
 - b. Mengapa yang membantu merawat tanaman?
 - c. Siapa saja yang ikut bermain di taman?
10. Saat ingin menanyakan waktu, maka menggunakan kata tanya
 - a. apa
 - b. siapa
 - c. kapan
11. Ani bermain di halaman sekolah. Kalimat tanya yang tepat untuk jawaban di atas adalah
 - a. Dimana Ani bermain?
 - b. Dengan siapa Ani bermain?
 - c. Kapan Ani bermain?
12. Kalimat perintah selalu diakhiri dengan tanda
 - a. (!)
 - b. (?)
 - c. (.)
13. Kalimat perintah untuk menyatakan
 - a. pertanyaa
 - b. perinta
 - c. pernyataan
14. Untuk meminta tolong menggunakan kalimat perintah harus menggunakan kalimat yang
 - a. sopan
 - b. keras
 - c. tinggi
15.! Temanmu bisa terluka.
 - a.Hati-hati
 - b.Lari
 - c.Cepat

16. Di bawah ini yang merupakan contoh kalimat perintah adalah

- a. Bukakan pintunya!
- b. Siapa namamu?
- c. Sepeda Made baru.

17. Tanda seru(!) digunakan untuk kalimat

- a. Tanya
- b. perintah dan larangan
- c. pernyataan

18. Berikut ini yang termasuk contoh kalimat larangan adalah

- a. Bawakan bukunya!
- b. Jangan berlari- larian di jalan raya!
- c. Nita anak yang pandai.

19. Apakah kamu mau bermain denganku?

Kalimat yang memiliki intonasi yang sama dengan kalimat di atas adalah

- a. Hati- hati!
- b. Apakah kamu terluka?
- c. Jangan bertengkar!

20. Ayo, kita bermain di halaman!

Kalimat tersebut termasuk jenis kalimat

- a. perintah
- b. tanya
- c. ajakan

21. Di bawah ini hal yang tidak boleh dilakukan saat bermain adalah

- a. merebut mainan teman
- b. menunggu giliran alat permainan
- c. menggunakan alat bermain dengan baik

22. Saat bermain di taman, hal yang tidak boleh dilakukan adalah

- a. menggunakan alat permainan yang disediakan
- b. membuang sampah di tempatnya
- c. menginjak rumput yang ditanam

23. Di bawah ini kata yang menggunakan awalan suku kata "hi" adalah

- a. hidung
- b. harimau
- c. hujan

24. Perhatikan gambar berikut,!



Gambar di atas diawali dengan menggunakan suku kata ...

- a. ha
- b. hi
- c. hu

Perhatikan gambar berikut untuk soal nomor 25 dan 26



25. Tempat yang ditunjukkan pada gambar adalah

- a. lapangan
- b. taman kota
- c. halaman sekolah


26. Kegiatan yang tidak boleh ditiru pada gambar tersebut adalah

- a. bermain ayunan di tempat yang disediakan
- b. bersepeda di tengah jalan
- c. berjalan di trotoar


SUMATIF 3
SD AL IRSYAD 02 CILACAP
TAHUN PELAJARAN 2022/2023

Mata Pelajaran : Bahasa Indonesia	Nama :
Materi : Bab 3. Awas Kuman!	Kelas/Semester : I / 1 (Satu/Satu)
Hari/Tanggal :	Nilai : <input style="width: 100px; height: 30px; border: 2px solid black;" type="text"/>

A. Pilihlah jawaban yang benar dengan memberi tanda silang (X) pada huruf a, b, atau c.

1. Hal yang terjadi saat kita terkena pilek adalah
 - a. dapat bernafas dengan lega
 - b. Hidung mampet dan sering bersin
 - c. Badan terasa segar
2. Apa yang harus kita lakukan apabila disekitar kita ada orang yang pilek?
 - a. tidak melakukan apapun
 - b. bermain seperti biasanya
 - c. memakai masker
3. Kita harus mencuci buah sebelum memakannya agar
 - a. terlihat segar
 - b. terhindar dari kuman
 - c. rasa buahnya enak
4. Agar tidak menulari teman saat kita pilek, maka sebaiknya
 - a. bersin dimana saja
 - b. tidak menutup mulut saat bersin
 - c. memakai masker
5. Agar kita cepat sembuh dari pilek, maka kita
 - a. beraktifitas seperti biasa
 - b. istirahat yang cukup dan makan makanan yang bergizi
 - c. bermain dengan teman
6. Agar kita terhindar dari kuman, maka sebaiknya
 - a. sering mandi
 - b. memakai masker dan mencuci tangan
 - c. tidur yang cukup
7. Saat kita tertular penyakit maka tubuh kita terasa
 - a. segar
 - b. lemah
 - c. kuat
8. Saat kita bersin maka sebaiknya
 - a. membuka mulut selebar- lebarnya
 - b. menutup mulut dengan lengan bagian dalam
 - c. menutup mulut menggunakan kedua telapak tangan
9. Cara yang benar begitu kita keluar dari kamar mandi adalah
 - a. mencuci tangan tanpa sabun
 - b. langsung melakukan aktifitas
 - c. mencuci tangan dengan sabun
10. Mencuci tangan sebaiknya dilakukan sesering mungkin, salah satunya pada saat....
 - a. selesai buang air dan buang air besar
 - b. sebelum menyentuh makanan
 - c. jawaban a, b benar
11. Perhatikan gambar berikut,


Gambar di atas menggunakan awalan suku kata

 - a. ka
 - b. ki
 - c. ku
12. Perhatikan gambar berikut,


Gambar di atas menggunakan awalan suku kata

 - a. ka
 - b. ki
 - c. ke

13. Hewan yang suku kata awalnya menggunakan "ki" adalah

a



b



c



14. Berikut ini yang termasuk gambar makanan yang kotor adalah

a



b



c



15. Di bawah ini salah satu ciri dari makanan yang kotor adalah

- a. terbungkus plastik
- b. banyak lalat yang hinggap
- c. diambil menggunakan alat dan tidak tersentuh tangan

16. Cara yang tepat agar kita tetap makan makanan yang bersih dan sehat adalah

- a. membeli makanan di sembarang warung
- b. membawa bekal dari rumah
- c. membeli makanan yang berwarna warni

Baca cerita berikut ini untuk menjawab pertanyaan nomor 17 sampai 20.

Ru membawa bekal kue madu. Ia makan dengan lahap. Ru sudah habis dua potong. Ru menyimpan sisanya untuk dimakan nanti siang.

Ru suka minum susu madu. Namun, ia lupa membuang bungkusnya. Ru selalu lupa ... lupa ... dan lupa lagi.

Gara-gara itu, banyak kecoak di kelas.

Teman-teman meminta Ru membersihkan laci, tetapi ia selalu menundanya.

Aduh!

Suatu hari, Ru hendak menyimpan bukunya di laci. Tiba-tiba, ia terkejut. Banyakkecoak keluar dari laci mejanya.

Ru malu sekali. Semua ini salahnya. Ia pun meminta maaf. Ru berjanji akan selalu membuang sampah di tempatnya.

Dikutip dari bacaan : Iih...Jorok

Penulis : Fajriatun

Nurhidayati

17. Apa bekal yang dibawa Ru ke sekolah

- a. roti pisan
- b. kue madu
- c. kue bolu

18. Kebiasaan apa yang selalu dilakukan Ru setelah minum

- a. membuang bungkus di tempat sampah
- b. lupa membuang bungkus minuman
- c. menaruh bungkus di tas

19. Mengapa banyak kecoa di kelas?

- a. Kelas yang tidak pernah dibersihkan
- b. Sampah yang menumpuk di kelas
- c. Bungkus minuman yang lupa dibuang oleh Ru

20. Dimana Ru menaruh bungkus sisa makanannya?

- a. tempat sampah
- b. laci meja
- c. depan kelas

SUMATIF 4
SD AL IRSYAD 02 CILACAP
TAHUN PELAJARAN 20../20..

Mata Pelajaran : Bahasa Indonesia Materi : Bab 4. Aku Bisa!	Nama : Kelas/Semester : I / 1 (Satu/Satu) Hari/Tanggal : Nilai : <div style="border: 2px solid black; width: 150px; height: 30px; display: inline-block; vertical-align: middle;"></div>
--	--

A. Pilihlah jawaban yang benar dengan memberi tanda silang (X) pada huruf a, b, atau c.

1. Harimau bergerak dengan cara
 - a. terbang
 - b. melompat
 - c. merayap
2. Di bawah ini hewan yang bergerak dengan cara terbang adalah
 - a. kupu- kupu
 - b. cicak
 - c. kelinci
3. Laba- laba bergerak dengan cara
 - a. melompat
 - b. berenang
 - c. merayap
4. Berikut ini hewan- hewan yang sama- sama bergerak dengan cara berenang adalah
 - a. kuda laut dan ikan
 - b. harimau dan kanguru
 - c. laba- laba dan cicak
5. Ulat dan cicak merupakan hewan yang sama- sama bergerak dengan cara
 - a. melompat
 - b. merayap
 - c. terbang

6. Perhatikan gambar berikut ini!



Hewan tersebut bergerak dengan cara

- a. melompat
 - b. terbang
 - c. merayap
- 7. Perhatikan gambar berikut!**



Suku kata pertama dari nama hewan di atas adalah

- a. Le b. La c. Li
8. Hewan yang suku kata awalnya menggunakan kata "le" adalah



9. Pada saat akan berbicara untuk menanyakan sesuatu, maka kita sebaiknya
- a. menyela teman yang berbicara
 - b. mengangkat tangan dan meminta izin berbicara pada guru
 - c. langsung berbicara
10. Perhatikan gambar di bawah ini,



Nama permainan berdasarkan gambar di atas adalah

- a. Gobak sodor
 - b. Petak umpet
 - c. Ular naga
11. Permainan ular naga dilakukan secara
- a. mandiri
 - b. sendiri
 - c. bersama- sama

12. Permainan tradisional ular naga melatih kita agar

- a. belajar secara tim
- b. belajar sendiri
- c. terbiasa mandiri

13. Permainan tradisional ular naga melatih kita agar

- a. belajar secara tim
- b. belajar sendiri
- c. terbiasa mandiri

14. Pada permainan ular naga, dua anak pada gambar di bawah ini merupakan bagian...



- a. kepala naga
- b. tubuh naga
- c. gerbang

Perhatikan gambar berikut ini untuk soal nomor 14 sampai 16.



15. Posisi anak yang berdiri paling depan bertindak sebagai

- a. kepala naga
- b. tubuh naga
- c. ekor naga

16. Posisi anak yang berada di tengah barisan berperan sebagai

- a. kepala naga
- b. tubuh naga
- c. ekor naga

17. Perhatikan gambar berikut!

1.



2.



3.



Urutan yang tepat permainan ular naga berdasar gambar di atas adalah

- a. 1- 2- 3
- b. 2- 3- 1
- c. 3- 1- 2

18. Perhatikan gambar berikut!



... wak

Suku kata yang tepat untuk melengkapi

- a. la
- b. li
- c. lu

19. Perhatikan gambar berikut!



... le

Suku kata yang tepat untuk melengkapi

- a. la
- b. le
- c. li

20. Gambar yang menunjukkan kegiatan mendorong adalah

a.



b.



c.





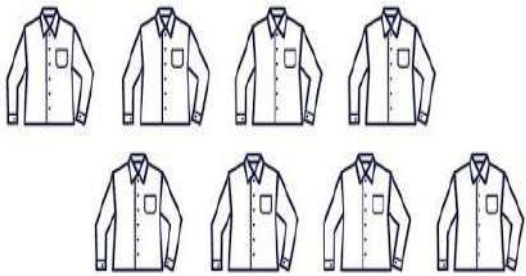


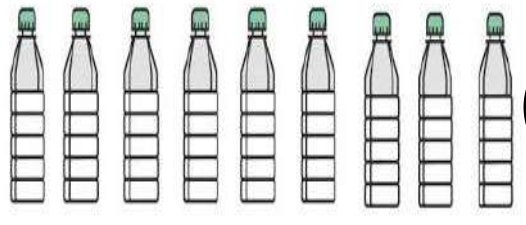





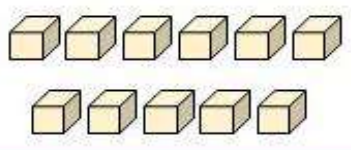






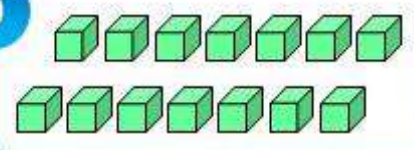

LATIHAN MATEMATIKA

NO. ABSEN _____

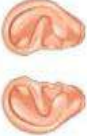






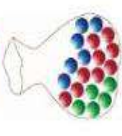


KELAS 1 D

Hitunglah banyak benda di bawah ini !

No	Gambar Benda	
1		<input type="text"/>
2		<input type="text"/>
3		<input type="text"/>
4		<input type="text"/>
5		<input type="text"/>
6		<input type="text"/>
7		<input type="text"/>
8		<input type="text"/>
9		<input type="text"/>
10		<input type="text"/>

1		<input type="text"/>
2		<input type="text"/>
3		<input type="text"/>
4		<input type="text"/>
5		<input type="text"/>
6		<input type="text"/>
7		<input type="text"/>
8		<input type="text"/>
9		<input type="text"/>
10		<input type="text"/>

Pasangkan jumlah, nama dan lambang bilangannya!

									
empat	dua	tujuh	enam	sembilan	tiga	dua puluh	dua belas	sepuluh	delapan

dua puluh	14
sebelas	12
delapan belas	20
empat belas	17
enam belas	18
dua belas	13
tujuh belas	11
sembilan belas	15
lima belas	16
tiga belas	19

Tuliskan nama dan lambang bilangannya

Dua puluh dua

Tujuh belas

Dua puluh tujuh

Tiga puluh empat

Empat puluh enam

Lima puluh satu

34

27

46

51

22

6.

Dua puluh tiga



7.

Lima puluh



8.

Lima puluh sembilan



9.

Empat puluh empat



10.

Tiga puluh dua



Tuliskan nilai tempatnya!

$$92 = \boxed{} \text{ puluhan} + \boxed{} \text{ satuan}$$

$$27 = \boxed{} \text{ puluhan} + \boxed{} \text{ satuan}$$

$$54 = \boxed{} \text{ puluhan} + \boxed{} \text{ satuan}$$

$$11 = \boxed{} \text{ puluhan} + \boxed{} \text{ satuan}$$

$$38 = \boxed{} \text{ puluhan} + \boxed{} \text{ satuan}$$

$$63 = \boxed{} \text{ puluhan} + \boxed{} \text{ satuan}$$

$$79 = \boxed{} \text{ puluhan} + \boxed{} \text{ satuan}$$

8 puluhan dan 5 satuan = _____

3 puluhan dan 7 satuan = _____

0 puluhan dan 6 satuan = _____

7 puluhan dan 9 satuan = _____

1 puluhan dan 5 satuan = _____

9 puluhan dan 3 satuan = _____

2 puluhan dan 1 satuan = _____

5 puluhan dan 8 satuan = _____

3 puluhan dan 0 satuan = _____

3 puluhan dan 7 satuan = _____

Tuliskan nilai tempat dan lambang bilangannya!



_____ puluhan



_____ satuan



_____ puluhan

_____ satuan



_____ puluhan

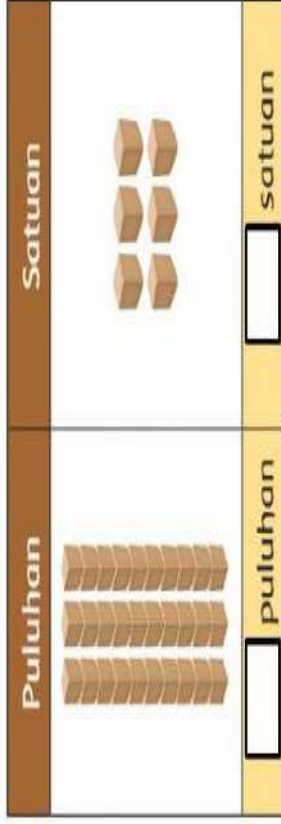
_____ satuan



_____ puluhan

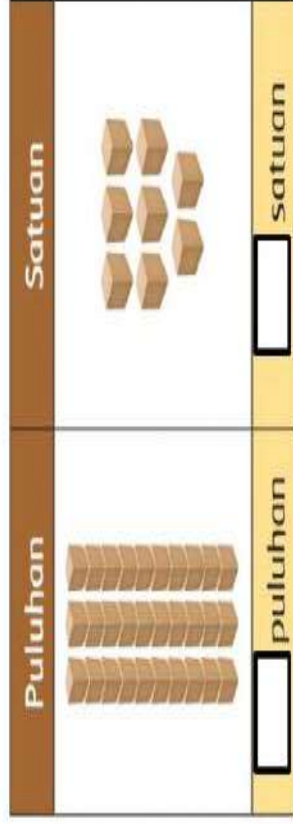
_____ satuan

1.



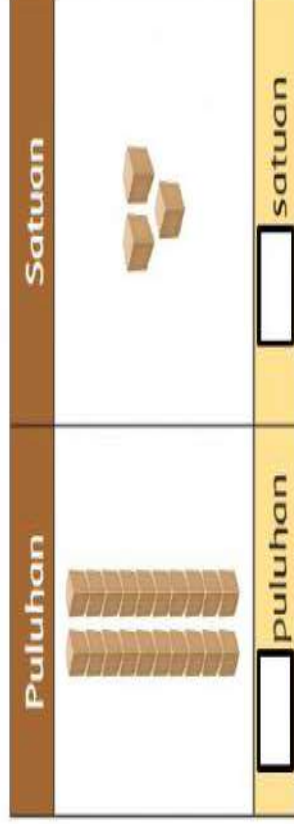
...

2.



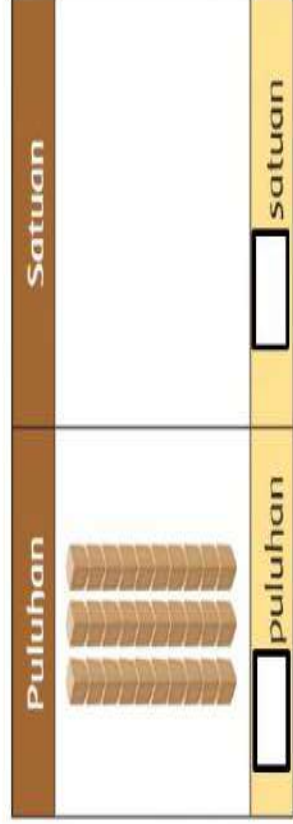
...

3.



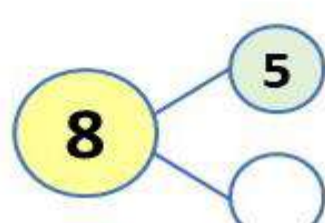
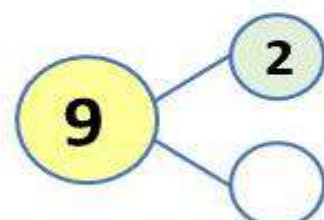
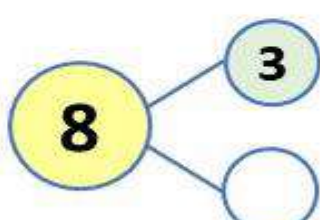
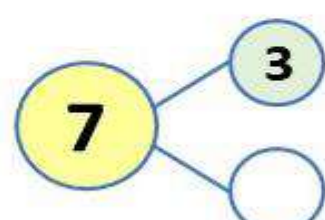
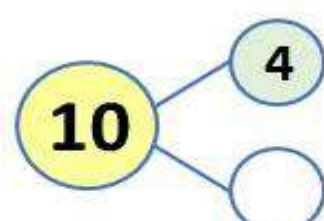
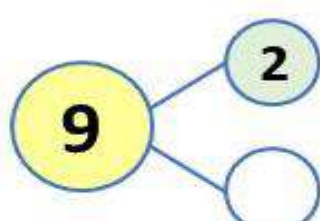
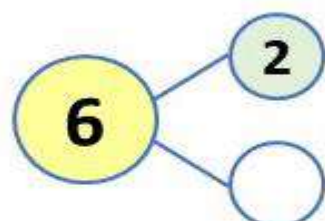
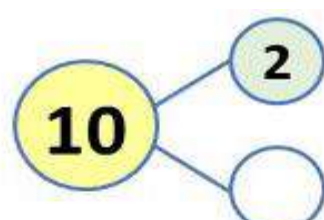
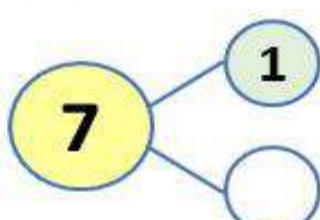
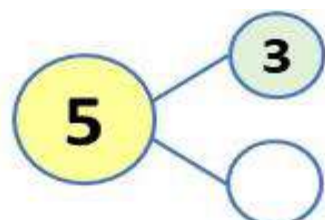
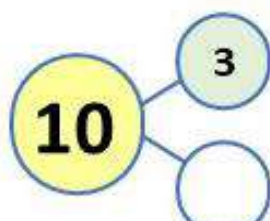

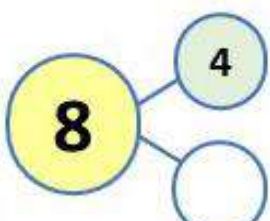

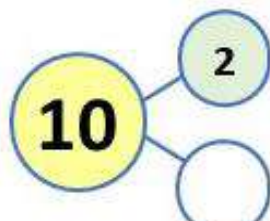
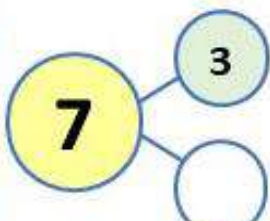

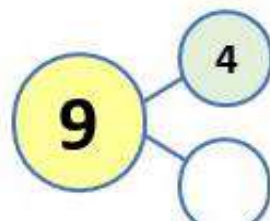

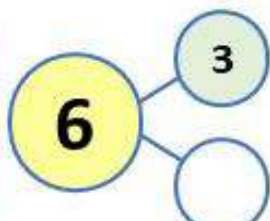

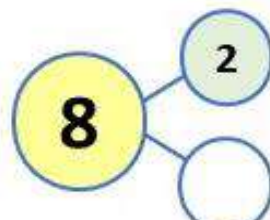
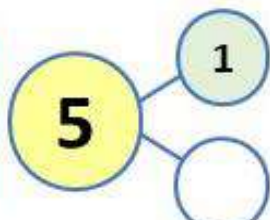

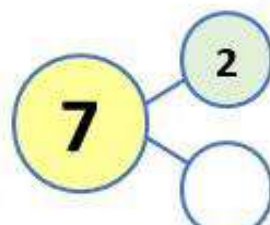

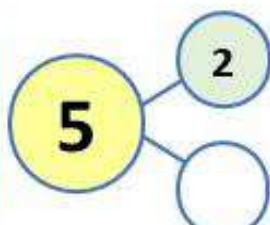

...

4.



...

Tuliskan pasangan bilangan di bawah ini!

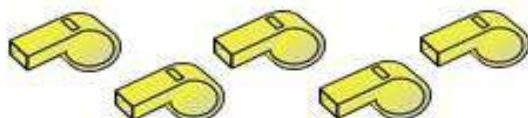


Nilai

Hitunglah dan bandingkan banyak benda di bawah ini!!



Jumlah mobil di atas _____ dari jumlah sepeda.



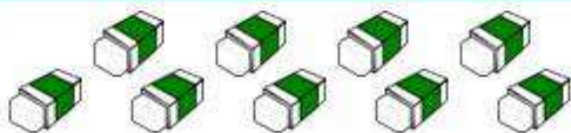
Jumlah bola di atas _____ dari jumlah peluit.



Buah nanas jumlahnya _____ dengan buah labu.



Jumlah pensil warna di atas _____ dari jumlah penggaris.



Jumlah penghapus di atas _____ dari jumlah rautan.



Buah jeruk jumlahnya _____ dari buah apel.



Buah pisang jumlahnya _____ dari buah semangka.



Buah nanas jumlahnya _____ dengan buah labu.



Buah pir jumlahnya _____ dari buah stroberi.



Buah manggis jumlahnya _____ dari buah mangga.

Urutkanlah dari bilangan terkecil!

10 6 8 →

1 5 3 →

6 3 5 4 →

9 7 6 8 →

8 **13** **3** **16** **6** urutannya

12 **17** **20** **14** **18** urutannya

29 26 30 27 28 urutannya

36 40 37 39 38 urutannya

Urutkanlah dari bilangan yang terbesar!

3 5 4 →

5 7 6 →

10 8 9 →

6 2 8 1 →

4 1 9 3 →

33 34 32 31 35 urutannya

41 45 43 42 44 urutannya

49 46 50 48 47 urutannya

Dimanakah letak posisi benda-benda ini?



1. Dimanakah letak tas?
 - a. Di bawah meja
 - b. Di atas meja
 - c. Di samping meja
2. Dimanakah posisi duduk siswa perempuan?
 - a. Baris kedua sebelah kiri
 - b. Baris kedua sebelah kanan
 - c. Baris kedua sebelah kanan
3. Dimanakah posisi berdiri siswa laki-laki?
 - a. Baris pertama di tengah
 - b. Baris kedua di tengah
 - c. Baris ketiga di tengah
4. Selain tas, benda apa lagi yang terletak di atas meja?
 - a. Topi dan vas bunga
 - b. Topi dan pensil
 - c. Topi dan buku

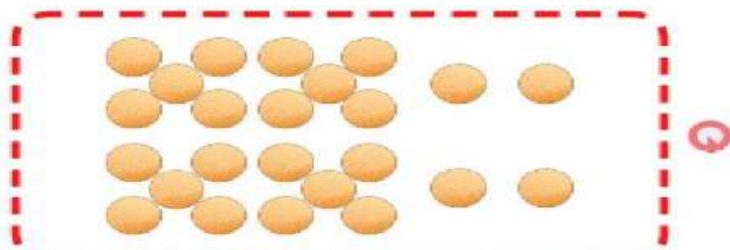


5. Hewan apa yang berada paling atas?
 - a. Katak
 - b. gajah
 - c. jerapah
6. Hewan apa yang berada pada tingkat ketiga dari bawah?
 - a. Kambing
 - b. singa
 - c. gajah
7. Hewan apa yang berada diantara kambing dan jerapah?
 - a. Katak
 - b. singa
 - c. jerapah
8. Dimana posisi singa?
 - a. Di atas kambing, tetapi di bawah jerapah
 - b. Di atas gajah, tetapi di bawah kambing
 - c. Di atas gajah, tetapi di bawah jerapah

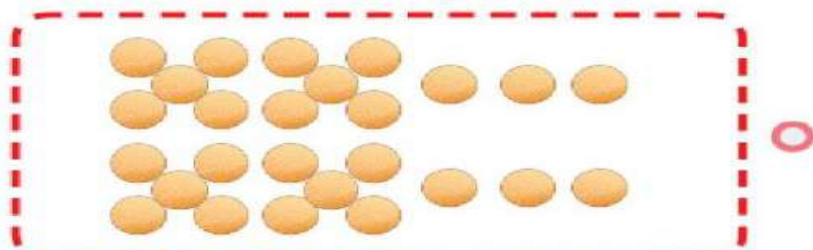


9. Hewan apa yang berada di posisi setelah kelinci?
 - a. Anjing
 - b. Harimau
 - c. Tikus
10. Hewan apa yang berada di posisi sebelum tikus?
 - a. Sapi
 - b. Anjing
 - c. Harimau

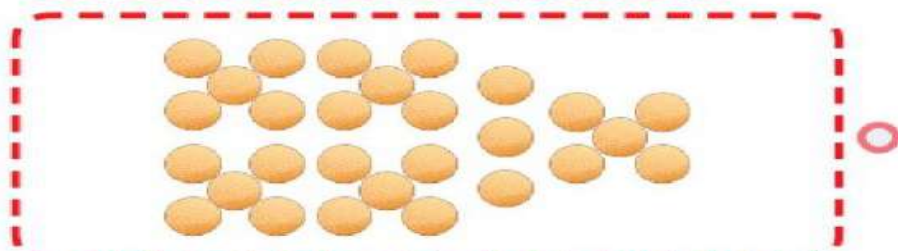
Hitunglah benda di bawah ini!



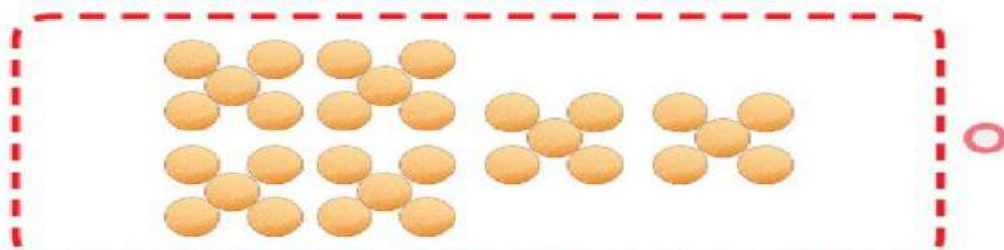
26



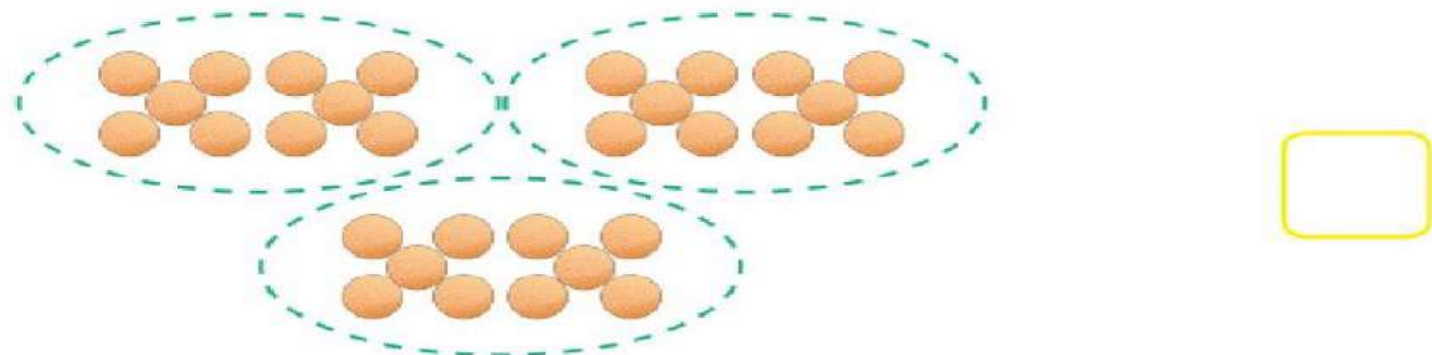
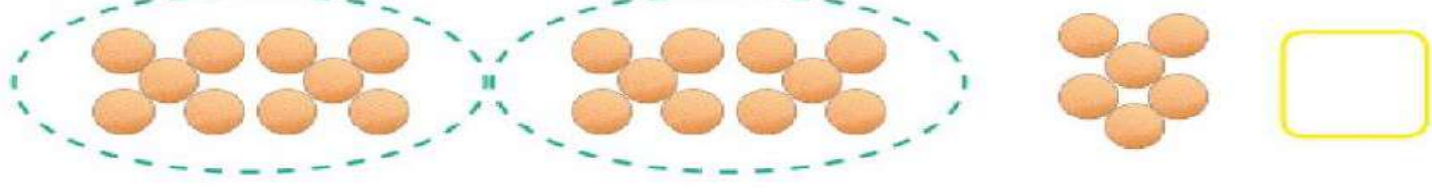
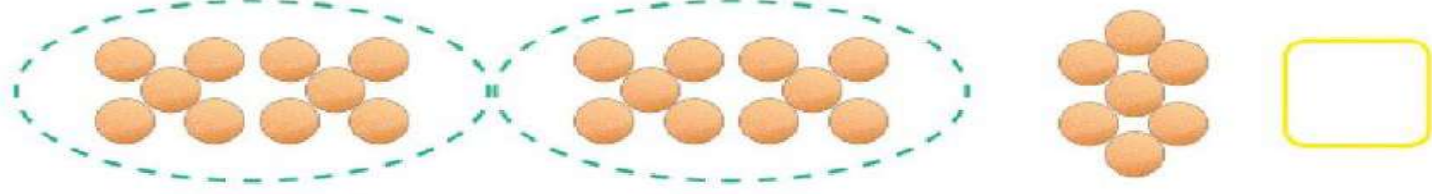
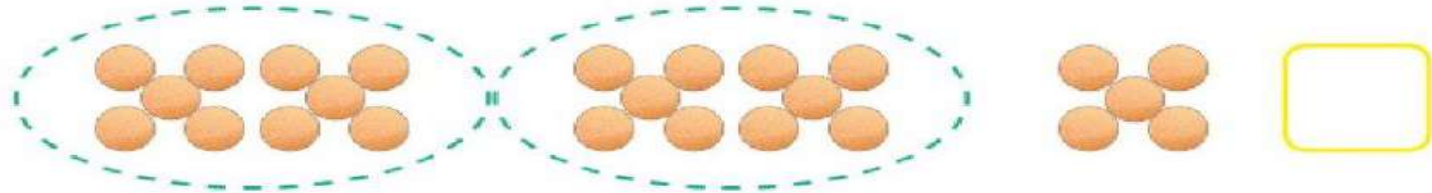
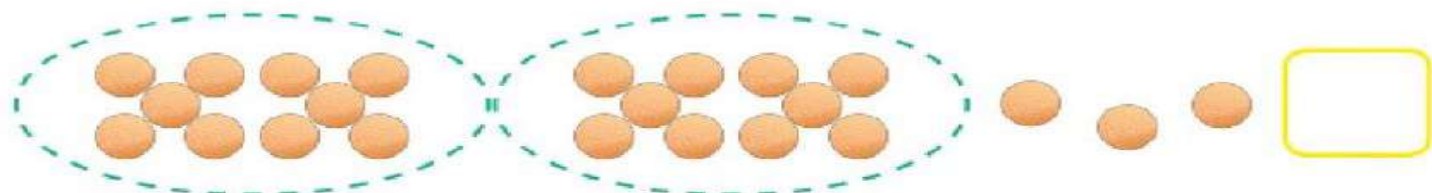
28



30



24



Penjumlahan

1. $3 + 4 = \dots$
2. $5 + 4 = \dots$
3. $4 + 6 = \dots$
4. $10 + 4 = \dots$
5. $10 + 7 = \dots$
6. $6 + 7 = \dots$
7. $8 + 8 = \dots$
8. $7 + 5 = \dots$
9. $8 + 9 = \dots$
10. $9 + 5 = \dots$

Soal cerita

1. Ibu membeli 8 buah apel dan 7 buah jeruk. Berapa jumlah seluruh buah yang dibeli ibu?
2. Bela memiliki 7 permen. Ayah memberinya 4 permen. Berapa jumlah permen Bela sekarang?
3. Cika mempunyai 8 buku tulis. Fino memiliki 6 buku tulis lebih banyak daripada Cika. Berapa buku tulis milik Fino?
4. Hari senin, paman mengambil 9 butir telur ayam. Hari selasa, paman mengambil lagi 7 butir telur. Berapa jumlah seluruh telur yang paman ambil?
5. Di atas meja ada 10 donat. Kemudian ibu meletakkan lagi 5 donat. Berapa jumlah donat di atas meja sekarang?

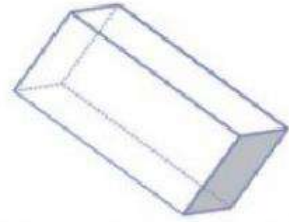
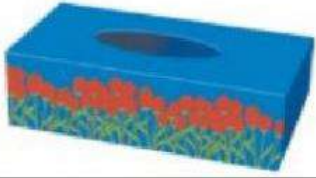
Pengurangan

1. $6 - 3 = \dots$
2. $8 - 2 = \dots$
3. $9 - 4 = \dots$
4. $10 - 6 = \dots$
5. $12 - 4 = \dots$
6. $15 - 7 = \dots$
7. $14 - 5 = \dots$
8. $16 - 9 = \dots$
9. $15 - 9 = \dots$
10. $17 - 8 = \dots$


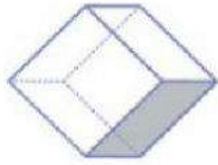
Soal cerita

1. Di dalam aquarium terdapat 10 ekor ikan. Karena airnya kotor, 3 ekor ikan mati. Berapa ikan yang masih hidup di dalam akuarium?
2. Deni memiliki 9 butir kelereng, sedangkan Joko memiliki 3 butir kelereng lebih sedikit daripada Deni. Berapa kelereng yang Joko miliki?
3. Di atas meja ada 12 buah jeruk. Adik makan 3 buah jeruk. Berapa sisa jeruk yang masih ada?
4. Edo mempunyai 14 buah rambutan. Namun ada 6 buah rambutan yang busuk. Berapa rambutan milik Edo yang masih bisa dimakan?
5. Dayu mempunyai 16 tangkai bunga mawar dan 9 tangkai bunga melati. Berapa selisih bunga mawar dan melati milik Dayu?


Pilihlah gambar yang berbentuk balok



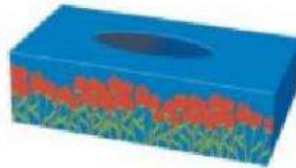
Pilihlah gambar yang berbentuk kubus



Pilihlah gambar yang berbentuk bola




Pilihlah gambar yang berbentuk tabung



Kubus



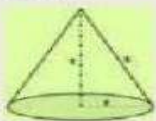
Balok



Tabung









Kerucut



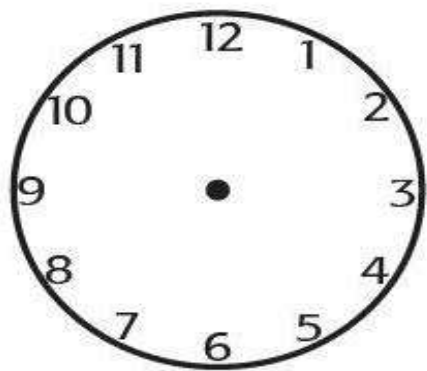
Bola



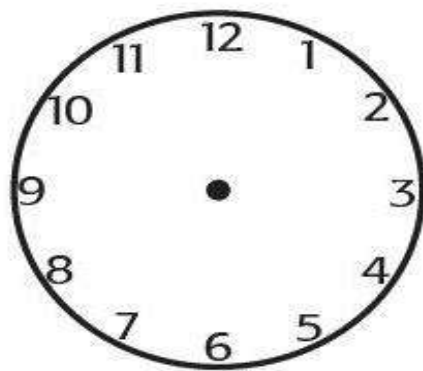
Tuliskan waktu yang benar



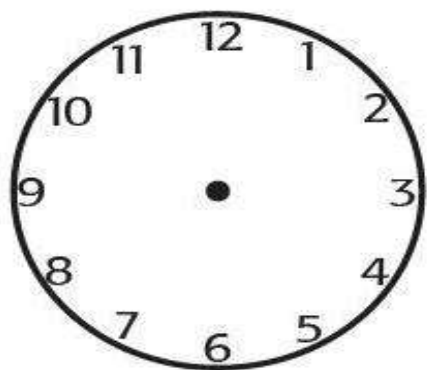
1. Pukul 07.00



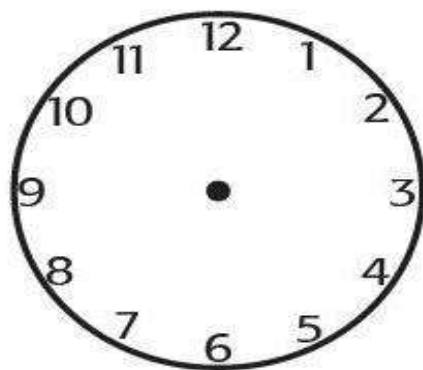
2. Pukul 07.20







3. Pukul 06.40



4. Pukul 09.15







Isi Tong Daur Ulang

Benda	Banyak Benda
Plastik	
Kaleng	
Kaca	
Kardus	

1. Benda yang paling banyak di tong daur ulang adalah ...
2. Benda yang paling sedikit di tong daur ulang adalah ...
3. Berapa jumlah sampah daur ulang kaleng dan kaca? _____
4. Berapa selisih sampah daur ulang kardus dan kaleng? _____
5. Berapa jumlah sampah daur ulang kardus? _____

Buah Kesukaan Siswa Kelas IV

No.	Nama Buah	Jumlah Siswa
1.	Jeruk	
2.	Mangga	
3.	Anggur	
4.	Apel	
5.	Melon	

1. Buah yang paling banyak disukai adalah ...
2. Buah yang paling sedikit disukai adalah ...
3. Jumlah siswa yang menyukai buah anggur dan apel ada siswa
4. Selisih siswa yang menyukai buah jeruk dan melon ada ... siswa
5. Jumlah siswa yang menyukai buah mangga, apel dan jeruk ada ... siswa

1. Di bawah ini yang merupakan judul lagu nasional adalah
 - a. suwe ora jamu
 - b. maju tak gentar
 - c. lir ilir
2. berikut ini pernyataan yang benar tentang menyanyikan lagu nasional adalah
 - a. menyanyikan lagu nasional dapat menambah rasa patriotisme
 - b. menyanyikan lagu nasional dapat menambah rasa nasionalisme
 - c. jawaban a, b benar
3. pada saat pengibaran bendera merah putih, lagu nasional yang dinyanyikan adalah
 - a. maju tak gentar
 - b. padamu negeri
 - c. Indonesia Raya
4. lagu nasional dinyanyikan dengan perasaan
 - a. biasa
 - b. bangga
 - c. santai
5. lagu nasional harus dinyanyikan dengan pelafalan yang
 - a. samar
 - b. tidak jelas
 - c. jelas
6. di bawah ini yang termasuk kelompok huruf konsonan adalah
 - a. a,i,u,e
 - b. b,c,d,k
 - c. i,u,o,a
7. ciri dari lagu daerah adalah
 - a. formal
 - b. resmi
 - c. sederhana
8. yang termasuk judul lagu daerah adalah
 - a. anak kambing saya
 - b. halo- halo Bandung
 - c. maju tak gentar
9. judul lagu daerah yang berasal dari wilayah Jawa Tengah adalah
 - a. bubuy bulan
 - b. sarinande
 - c. gundul gundul pacul
10. lagu Dari Sabang sampai Merauke bercerita tentang
 - a. kekayaan dan kebesaran Indonesia
 - b. perjuangan pahlawan
 - c. keindahan alam
11. lagu Ampar-Ampar Pisang berasal dari daerah
 - a. Jawa Barat
 - b. Sumatra Barat
 - c. Kalimantan Selatan
12. lagu Bagimu negeri bercerita tentang
 - a. semangat pengorbanan jiwa raga demi negeri
 - b. keberagaman masyarakat Indonesia
 - c. keindahan alam negeri Indonesia
13. pencipta dari lagu Bagimu negeri adalah
 - a. Ismail Marzuki
 - b. Kusbini
 - c. W.R Supratman
14. lagu Anak Kambing Saya berasal dari daerah
 - a. Sulawesi Selatan
 - b. Nusa Tenggara Timur
 - c. Jawa Timur
15. lagu Anak Kambing Saya dinyanyikan dengan tempo
 - a. lambat
 - b. sedang
 - c. cepat
16. serangkaian ketukan dengan jarak yang seragam disebut
 - a. tempo
 - b. ritme
 - c. denyut/ pulsa
17. cepat lambatnya irama dalam lagu disebut
 - a. dinamika
 - b. tempo
 - c. birama
18. contoh pola ritme sederhana dapat dilakukan dengan permainan
 - a. tepuk tangan
 - b. entakan kaki
 - c. jawaban a, b benar

19. lagu Aku Seorang Kapiten dinyanyikan dengan tempo

- a. lambat
- b. sedang
- c. cepat

20. contoh bunyi-bunyian berpola di sekitar kita yang menunjukkan pola ritme sederhana adalah

- a. bunyi kereta api berjalan
- b. suara panji gamelan menempa gong
- c. jawaban a, b benar

esai

21. lagu nasional "Sorak Sorai bergembira" dinyanyikan dengan tempo

22. lagu nasional biasanya dinyanyikan pada acara yang bersifat

23. menyanyikan lagu nasional dapat menambah rasa

24. lagu daerah lir ilir berasal dari daerah

25. perulangan bunyi-bunyian menurut pola tertentu dalam sebuah lagu disebut

1. Garis horisontal merupakan garis lurus sejajar dan biasanya menimbulkan kesan

- a. tenang
- b. bergerak
- c. kuat

2. Garis vertikal adalah garis lurus yang sejajar dan menimbulkan kesan ...

- a. kuat
- b. tenang
- c. bergerak

3. Garis diagonal biasanya memberikan kesan

- a. bergerak
- b. halus
- c. kuat

4. Garis lengkung biasanya memberikan kesan

- a. kuat
- b. halus
- c. bergerak

5. Garis zig-zag merupakan kombinasi garis diagonal yang menghubungkan titik-titik. garis tersebut menimbulkan kesan

a. bergerak cepat

b. diam

c. lentur

6. Garis spiral biasanya dibuat untuk menunjukkan kesan

- a. bergerak cepat
- b. diam
- c. lentur

7. laut datar, pohon yang tumbang, orang tidur merupakan asosiasi dari garis

- a. horizontal
- b. vertikal
- c. zig zag

8. objek yang tegak lurus seperti pohon, monumen digambarkan melalui garis

- a. diagonal
- b. vertikal
- c. horizontal

9. objek yang tidak seimbang seperti kemiringan suatu benda digambarkan oleh garis

- a. lengkung
- b. vertikal
- c. diagonal

10. contoh dari penggambaran garis lengkung adalah

- a. pohon yang hampir tumbang
- b. gumpalan asap
- c. monumen

11. contoh penggambaran dari garis lengkung yang menunjukkan kesan lemah gemulai adalah

- a. balon
- b. ombak yang bergulung-gulung
- c. kilat petir

12. garis zig zag merupakan garis lurus patah-patah bersudut runcing yang dibuat dengan gerakan naik turun secara cepat dan spontan. Contoh dari garis zig zag adalah


- a. retakan tembok
- b. jalan berkelok di pegunungan
- c. buih sabun

13. Penjepit untuk menyatukan beberapa lembar kertas atau plastik disebut

- a. stapler
- b. klip
- c. gunting

14. kertas biasanya terbuat dari
- minyak
 - grafit
 - bubur serat kayu
15. Alat dari besi yang digunakan untuk memaut dua bagian menjadi satu disebut
- stapler
 - klip
 - gunting
16. Bahan lilin atau plastisin biasanya memiliki sifat
- keras
 - kaku
 - lentur
17. Di bawah ini yang merupakan sifat dari tanah liat adalah
- mudah dibentuk
 - kaku
 - sukar dibentuk
18. Jenis pewarna basah yang aman digunakan untuk membuat karya seni adalah
- pewarna alami
 - pewarna kimia
 - pewarna buatan
19. Alat yang digunakan untuk mengukur adalah
- gunting
 - penghapus
 - penggaris
20. Di bawah ini yang termasuk pewarna kering adalah
- pewarna makanan
 - pewarna alami
 - krayon
1. Ekspresi jiwa manusia yang bisa dinikmati melalui alat indra penglihatan dan peraba. Merupakan pengertian dari ...
- Seni rupa
 - Seni tari
 - Seni musik
 - Seni teater

2. Perhatikan gambar berikut ini !




Gambar di atas merupakan garis ...

- Vertical
- Diagonal
- Horizontal
- Lurus

3. Gambar di atas merupakan garis ...

- statis
- Vertikal
- Dinamis
- Horizontal

4. Perhatikan gambar berikut ini !




Gambar di atas merupakan garis ...

- Statis
- Vertical
- Dinamis
- Horizontal

5. Jika sebuah garis bergerak dari sebuah titik A, berjalan kemana - mana kemudian kembali lagi ke titik A, maka ia akan membuat sebuah ...

- Titik
- Bentuk
- Warna
- Garis

6. Perhatikan gambar berikut ini !



Bentuk gambar di atas adalah ...

- Segitiga
- Persegi
- Limas
- Persegi panjang

Mata Pelajaran : PJOK
Kelas : I (SATU)
Hari / Tanggal :
Waktu : (90 menit)



I. Berilah tanda silang(x) pada pilihan jawaban a, b, atau c, di depan jawaban yang paling tepat !



1. Gambar di samping anak sedang ..
 - a. Jalan pelan
 - b. Jalan cepat
 - c. Jalan mundur



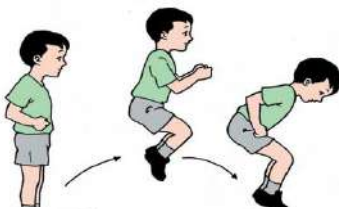
2. Gambar di samping anak sedang ...
 - a. Jalan ke samping kanan
 - b. Jalan ke samping kiri
 - c. Jalan ke belakang



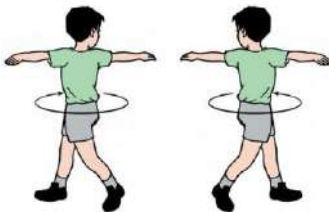
3. Gambar di samping anak sedang ...
 - a. Jalan ke samping kanan
 - b. Jalan ke samping kiri
 - c. Jalan ke belakang



4. Gambar di samping anak sedang ...
 - a. Lari
 - b. Jalan
 - c. Lompat



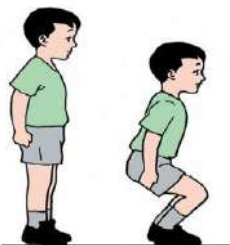
5. Gambar di samping anak sedang ...
 - a. Lompat satu kaki
 - b. Lompat dua kaki
 - c. Lari sambil lompat



6. Gambar di samping gerakan ...
 - a. Memutar lengan
 - b. Memutar pinggang
 - c. Memutar bahu



7. Gambar di samping adalah gerakan ...
 - a. Memutar lengan
 - b. Mengayun bahu
 - c. Mengayun lengan




8. Gambar di samping adalah gerakan ...
 - a. Menekuk kaki
 - b. Menekuk lutut
 - c. Melompat



9. Gambar di samping adalah gerakan ...
- Mencium lutut
 - Merunduk
 - Membungkuk



10. Gambar di samping adalah gerakan ...
- Menendang
 - Mengayun kaki
 - Mengangkat kaki



11. Gambar di samping anak sedang ...
- Duduk Selunjur
 - Duduk sila
 - Duduk biasa



12. Gambar di samping anak sedang ...
- Berdiri satu kaki
 - Berdiri dua kaki
 - Berdiri jinjit

13. Manusia untuk bisa melihat menggunakan ...
- Mata
 - Hidung
 - Tangan

14. Manusia untuk bisa mencium menggunakan ...
- Mata
 - Hidung
 - Lidah

15. Manusia untuk bisa meraba menggunakan...
- Telinga
 - Hidung
 - Tangan

II. Isilah titik-titik di bawah ini dengan jawaban yang tepat dan benar!

- Ketika berjalan pandangan lurus ke
- Saat berlari posisi badan condong ke
- Berdiri menggunakan satu kaki untuk melatih ...
- Gerakan mencium lutut untuk melatih ...
- Gerakan memutar lengan bisa dilakukan arah depan dan ...
- Berjalan jinjit menggunakan
- Pada sikap istirahat kedua kaki
- Pada saat sikap sempurna kedua tangan di samping
- Alat pembersih telinga adalah ...
- Lidah berguna untuk ...

III. Jawablah pertanyaan-pertanyaan di bawah ini dengan jelas dan tepat!

1.



Gerak dasar lokomotor di atas, disebut gerakan

2.



Kedua tangan digerakkan dari arah depan ke belakang secara bersamaan, gerakan tersebut dinamakan gerakan dasar tangan.

3.



Tahapan gerak tersebut adalah gerak bola

4.



Manfaat gerak bertumpu supaya tubuh **K U** **T**.

5.



Saat melakukan gerak keseimbangan, bagian tubuh yang digunakan untuk menjaga keseimbangan adalah

"SELAMAT MENGERJAKAN"